

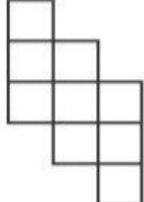





	<p>۱ با توجه به عدد ۴۵۶۷۰۹۳۲۸۱۱۰ به سوالات زیر جواب دهید.</p> <p>☺ عدد را به حروف بنویسید.</p> <p>☺ ارزش مکانی عدد ۷ را بنویسید.</p> <p>☺ رقم ۵ در این عدد یعنی ۵ بسته .....</p>	۱
<p>۶   ۸   ۱۰ — و — و — ۸   ۱۰   ۱۲</p> <p>۵:۴۵' - ۶:۰۵' - ۶:۲۵' - ..... - ..... - .....</p>	<p>۲ الگوهای عددی زیر را ادامه دهید.</p>	۲
<p>(۱) </p> <p>(۲) </p> <p>(۳) </p> <p>(۴) </p>	<p>۳ با توجه به الگوی شکل زیر، شکل بعدی را بکشید.</p>	۳
<p>۴</p>	<p>اگر اذان صبح ساعت ۵:۲۵ باشد و یک ساعت و چهل دقیقه بعد از آن خورشید طلوع کند، چه زمانی خورشید طلوع خواهد کرد؟</p>	۴
<p>۵</p> <p>۶   ۵۰'   ۴۹'' -۴   ۲'   ۲۹''</p> <hr/> <p>۸   ۴۵' + ۶   ۵۵''</p> <hr/>	<p>۵ حاصل جمع و تفریق های زیر را بدست آورید.</p>	۵
<p>۶</p>	<p>کشاورزی زمین مستطیل شکلی را به دو قسمت مساوی تقسیم کرده است. او در <math>\frac{1}{6}</math> یکی از قسمت ها سبزی کاشته است. او چه کسری از کل زمین را سبزی کاشته است؟</p>	۶



۷ جمع و تفریق اعداد مخلوط زیر را با توجه به روش خواسته شده انجام دهید.

$$\text{شکل } 7\frac{1}{4} + 1\frac{2}{3} =$$

$$\text{محور } 8\frac{1}{10} - \frac{7}{10} =$$

۸ ضرب های زیر را با توجه به روش خواسته شده انجام دهید.

$$\text{محور } 6 \times \frac{1}{2} =$$

$$\text{شکل } \frac{2}{5} \times 8 =$$

# جزوه سیپی

۹ ضرب و تقسیم های زیر را انجام دهید.

$$\frac{2}{3} \div 6 =$$

$$\frac{4}{5} \times \frac{2}{9} =$$

$$12 \div \frac{1}{4} =$$

$$\frac{8}{7} \times \frac{9}{5} =$$

۱۰ حاصل ضرب زیر را با روش مساحتی پیدا کنید.

$$1\frac{5}{6} \times 2\frac{3}{4} =$$